

Feuille réponse

Établissement : **SOLUTIONS** Classe :

Questions subsidiaires à remplir par toutes les classes :

a) Quel est le nombre de vos réponses exactes ?

b) Le nombre total de classes ayant participé à la demi-finale dans l'académie est : **962**

N° 1 : (★) La lettre secrète est : **R**

N° 2 : (★) Dans les carrés ci-dessous, écris dans l'ordre les touches sur lesquelles Anis va devoir appuyer. Attention : il ne faut remplir que les carrés nécessaires !

+4	X3	-3	-3	ou	/2	+4	+4	X3	
-----------	-----------	-----------	-----------	----	-----------	-----------	-----------	-----------	--

N° 3 : (★) L'aire de la partie de la table recouverte par les 13 cartes est : **270 cm²**.

N° 4 : (★★) La somme est : **1350 €**.

N° 5 : (★★) Écrite avec nos chiffres habituels, l'opération est :

$$414 + 146 = 560$$

N° 6 : (★★) Complète le tableau ci-dessous :

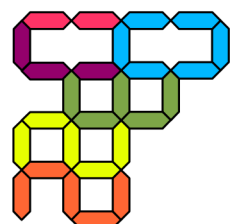
	Steve	Eude	Hubert	Yann	Adam
Nombre d'énigmes du Rallye résolue(s) par chaque frère :	5	2	0	1	4

N° 7 : (★★★) Les trois objets défectueux sont les numéros **1, 5 et 7** .

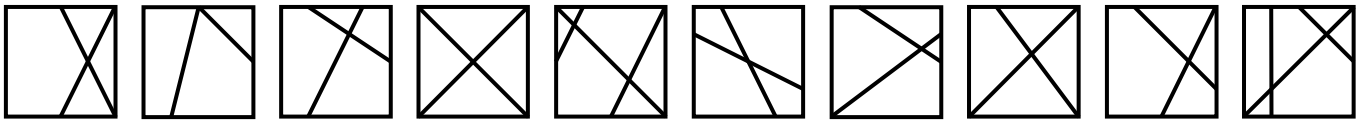
N° 8 : (★★★) Adhémar devra taper le nombre : **753210**

Ci-contre, colorie chaque chiffre en utilisant différentes couleurs.

-----Fin des réponses pour les Sixièmes-----



N° 9 : (☆☆☆) Écris sous chaque figure le numéro de la touche sur laquelle il faudra la coller :



5 1 2 8 9 0 3 6 4 7

N° 10 : (☆☆☆☆) Au départ, il y avait dans le sac 50 billes rouges et 46 billes bleues.

----Fin des réponses pour les Cinquièmes----

N° 11 : (☆☆☆☆) Complète le tableau ci-dessous :

Nombre de côtés :	3	4	5	12
Nombre de filles :	3	2	0	0
Nombre de garçons :	2	2	0	1

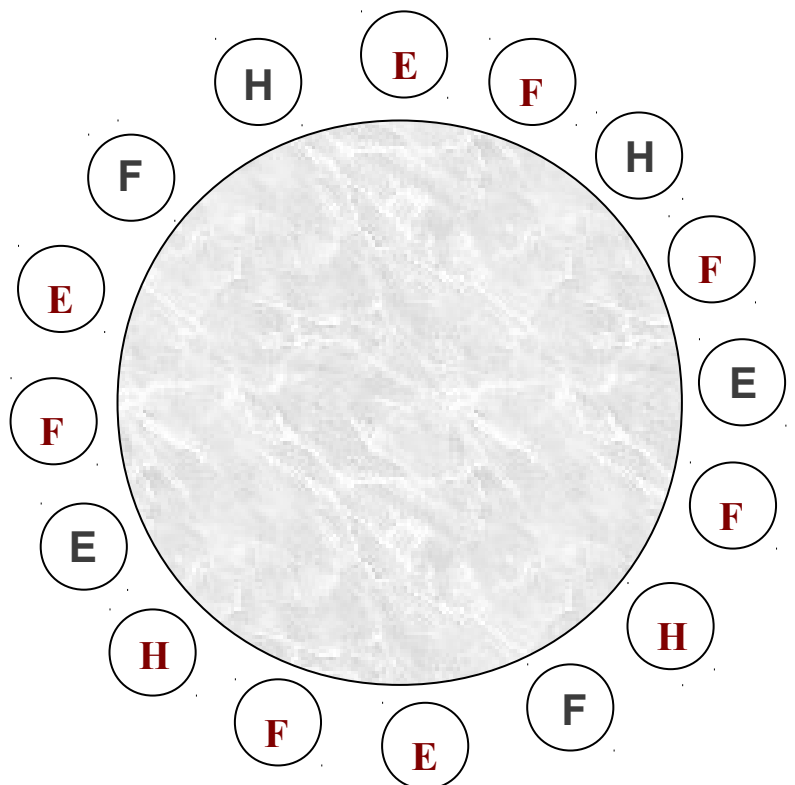
N° 12 : (☆☆☆☆☆) La plus petite somme que l'on peut obtenir est : 11

----Fin des réponses pour les Quatrièmes----

N° 13 : (☆☆☆☆☆) Le nombre que Jean-Louis a écrit est 50125810 .

---Fin des réponses pour les Troisièmes---

N° 14 : (☆☆☆☆☆☆) Complète le plan de table avec les lettres E, H et F :



N° 15 : (☆☆☆☆☆☆)

Il y a 114 appartements qui ont vue sur la mer.